

Een spannende arbeidsmarkt

Bij de beantwoording van de vragen in deze opgave moet je soms gebruikmaken van informatiebron 6 en 7 in de bijlage.

De arbeidsmarkt is voortdurend in beweging, de vraag naar arbeid en het aanbod van arbeid verandert in de loop van de tijd. Het Centraal Bureau voor de Statistiek (CBS) omschrijft in 2018 de situatie op de arbeidsmarkt als een gespannen arbeidsmarkt. Als voornaamste oorzaak noemt het CBS de sterke economische groei.

De spanning op de arbeidsmarkt wordt bepaald door de vraag naar extra arbeid (vacatures) en het vrij beschikbare aanbod van arbeid (werkloosheid).

- 1p 17 De spanning op de arbeidsmarkt wordt berekend door het aantal vacatures te delen door het aantal werklozen.
Wanneer is er zeker sprake van een stijging van de spanning op de arbeidsmarkt?
- A Als het aantal vacatures daalt en het aantal werklozen daalt.
 - B Als het aantal vacatures daalt en het aantal werklozen stijgt.
 - C Als het aantal vacatures stijgt en het aantal werklozen daalt.
 - D Als het aantal vacatures stijgt en het aantal werklozen stijgt.

Gebruik informatiebron 6.

- 1p 18 In 2018 zijn er 250.740 vacatures.
→ Bereken het aantal werklozen in 2018. Schrijf je berekening op.

Een van de factoren die van invloed is op de omvang van de werkloosheid is de beroepsbevolking. Zowel de omvang als de samenstelling van de beroepsbevolking verandert voortdurend.

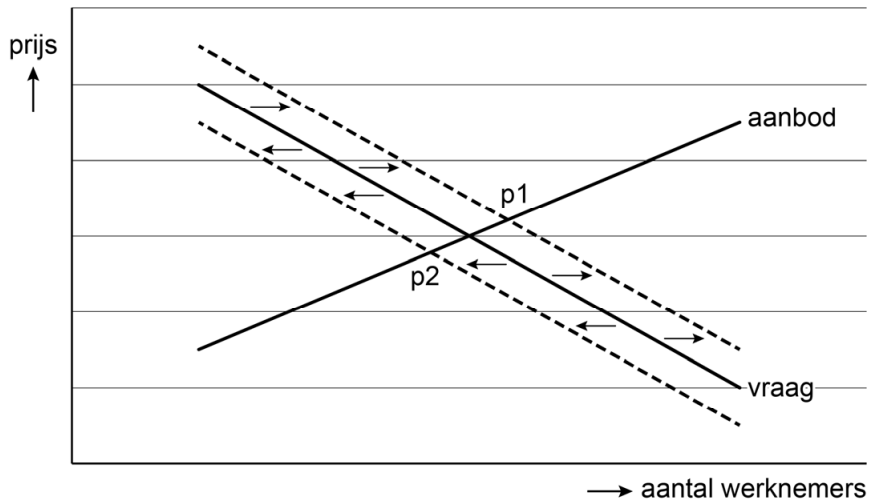
Gebruik informatiebron 7.

- 2p 19 Hieronder staan veranderingen in de arbeidsmarktpositie van twee verschillende personen in 2018.
- 1 Ab, 53 jaar, werd in het 2de kwartaal werkloos en zoekt sindsdien betaald werk.
 - 2 Daan stopte in het 2de kwartaal met werken en zoekt sindsdien geen betaalde baan.
- Op welke plaatsen (a t/m f) in het schema zijn Ab en Daan te plaatsen?

Gebruik informatiebron 7.

- 2p 20 Bereken met hoeveel personen de beroepsbevolking in het tweede kwartaal in 2018 is toegenomen. Schrijf je berekening op.

- 1p 21 De huidige situatie op de arbeidsmarkt heeft gevolgen voor de prijs van arbeid. In onderstaande grafiek wordt dit weergegeven.



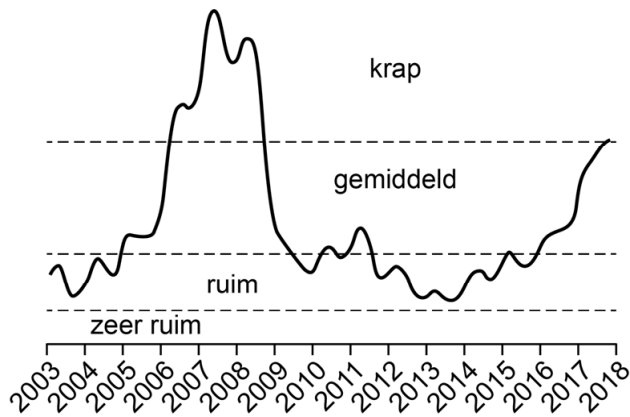
→ Maak van onderstaande zinnen een economisch juiste tekst door de juiste woorden te kiezen.

Doe het zo: Noteer de nummers (1) en (2) op je antwoordblad. Vul bij de nummers het juiste woord en de letter-cijfercombinatie in. Kies uit de woorden en letter-cijfercombinaties die tussen haakjes staan.

De vraagcurve verschuift door de economische groei naar ...(1)...
(rechts / links) De nieuwe evenwichtsprijs komt hierdoor te liggen bij
...(2)... (p1 / p2).

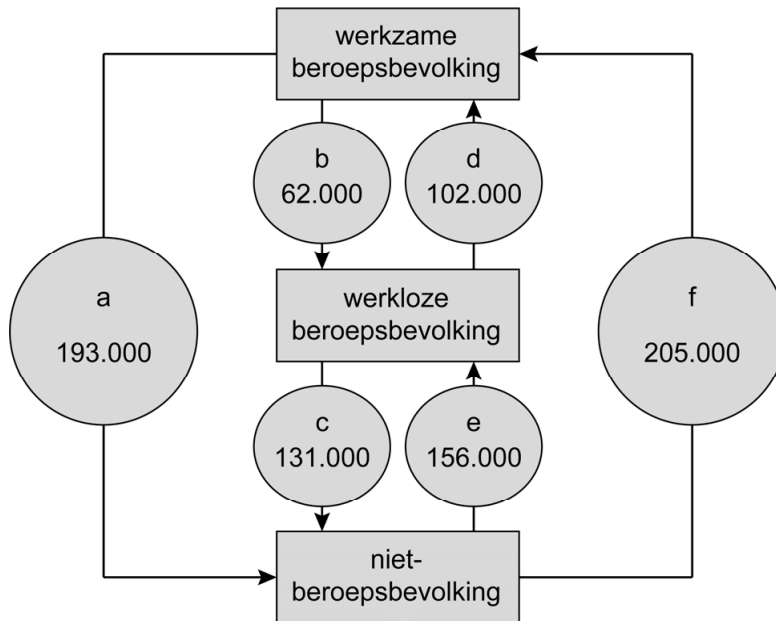
Een spannende arbeidsmarkt

informatiebron 6 het aantal vacatures per werkloze



De spanning is nog niet zo groot als 10 jaar geleden.
In 2018 zijn er 0,7 vacatures per werkloze.

informatiebron 7 verandering van arbeidsmarktposities¹⁾ in het tweede kwartaal van 2018



noot 1 De arbeidsmarktpositie is een indeling van de bevolking in:

- werkzame beroepsbevolking,
- werkloze beroepsbevolking,
- niet-beroepsbevolking.

uitleg:

Bij a: 193.000 mensen zijn gestopt met werken, bijvoorbeeld vanwege pensioen.

Bij f: 205.000 mensen zijn gestart met werken, bijvoorbeeld jongeren die net van school een baan hebben aangenomen.

Bronvermelding

Een opsomming van de in dit examen gebruikte bronnen, zoals teksten en afbeeldingen, is te vinden in het bij dit examen behorende correctievoorschrift.